




Ce travail appartient à :

J'ai trouvé ce travail :	
* Facile	
* Un peu difficile	
* Très difficile	

0 1 2 3 4 5 6 7 8 9 10
11 12 13 14 15 16 17 18 19 20

☆ Combien y a-t-il de dessins dans chaque ensemble? Utilise une stratégie pour ne pas compter deux fois la même image...